

# 사 회

문 1. 다음은 산업사회와 정보사회의 특징을 비교한 것으로 A와 B는 각각 산업사회와 정보사회 중 하나이다. (가) ~ (라)에 들어갈 내용으로 옳지 않은 것은?

비교 결과	비교 기준
A > B	네트워크형 조직의 발달
A > B	(가)
A > B	(나)
A < B	(다)
A < B	(라)

- ① (가) - 중간 관리층의 역할 비중
- ② (나) - 다품종 소량생산의 비중
- ③ (다) - 가정과 일터의 분리 정도
- ④ (라) - 정보 생산자와 정보 소비자의 분리 정도

문 2. 다음 글에 대한 설명으로 옳은 것만을 <보기>에서 모두 고른 것은?

최근 소비자들의 쇼핑트렌드가 변화하고 있다. 소비자들은 인터넷 해외 직접구매를 통해 새롭고 다양한 상품을 소비할 수 있게 되었다. 그러나 해외 직접구매로 인한 대금 결제 후 배송사기, 신용정보 해외유출 등의 새로운 문제점도 증가하고 있다.

<보 기>

ㄱ. 인터넷이 발달하면서 강제적 문화집변 현상이 증가하고 있다.  
 ㄴ. 문화의 간접전파로 인해 문화변동이 일어난다.  
 ㄷ. 문화지체 문제를 해결하려는 노력이 필요하다.  
 ㄹ. 아노미 현상과 문화복고 현상을 증가시킨다.

- ① ㄱ, ㄴ
- ② ㄴ, ㄷ
- ③ ㄷ, ㄹ
- ④ ㄴ, ㄹ

문 3. A ~ D는 자료수집 방법 중 질문지법, 면접법, 실험법, 참여관찰법 중 하나를 가리킨다. 이에 대한 설명으로 옳지 않은 것은?

자료 수집 방법 \ 특징	시간·비용의 효율성	자료 수집 도구의 구조화 정도	주관의 개입 가능성
A	높음	높음	낮음
B	낮음	높음	낮음
C	낮음	아주 낮음	높음
D	낮음	낮음	높음

- ① A는 대량의 구조화된 자료, 동일한 형태의 자료를 수집하기에 유리하다.
- ② B는 다른 방법들에 비해 윤리적 문제가 발생할 가능성이 높다.
- ③ C는 시간과 공간의 제약을 적게 받으면서 폭넓은 연구가 가능하다.
- ④ D는 심층적인 조사를 위해 소수를 대상으로 수행하는 경우가 일반적이다.

문 4. 다음은 결합의지와 접촉방식을 기준으로 사회 집단을 구분한 것이다. A ~ D에 대한 설명으로 옳은 것만을 <보기>에서 모두 고른 것은?

결합의지 \ 접촉방식	본질적, 자연적	선택적, 합리적
몰인격적, 형식적	A	B
전인격적, 직접적	C	D

<보 기>

ㄱ. A는 B에 비해 형식화된 규약에 의한 공식적 통제가 잘 이루어진다.  
 ㄴ. 가족, 친족, 민족은 B에 해당된다.  
 ㄷ. C는 D에 비해 가입과 탈퇴가 어렵다.  
 ㄹ. 회사 내 동호회는 B와 D의 성격이 공존한다.

- ① ㄱ, ㄴ
- ② ㄴ, ㄷ
- ③ ㄷ, ㄹ
- ④ ㄱ, ㄹ

문 5. 다음은 A국의 빈곤율 변화를 나타내고 있다. 이에 대한 설명으로 옳은 것은? (단, A국의 모든 가구의 구성원 수는 동일하다)

(단위: %)

구분 \ 연도	2000년	2005년	2010년	2015년
절대적 빈곤율	7.2	7.0	6.8	6.5
상대적 빈곤율	6.9	7.0	10.2	11.6

\* 절대적 빈곤율: 전체 가구 중 가구 소득이 ㉠ 최저생계비 미만인 가구의 비율  
 \* 상대적 빈곤율: 전체 가구 중 가구 소득이 ㉡ 중위소득의 50% 미만인 가구의 비율

- ① ㉡은 전체 가구 소득의 평균값이다.
- ② 2005년에는 ㉠과 ㉡의 값이 같다.
- ③ 절대적 빈곤가구 수가 감소하는 추세를 보인다.
- ④ 2000년에는 상대적 빈곤가구가 모두 절대적 빈곤가구에 포함된다.

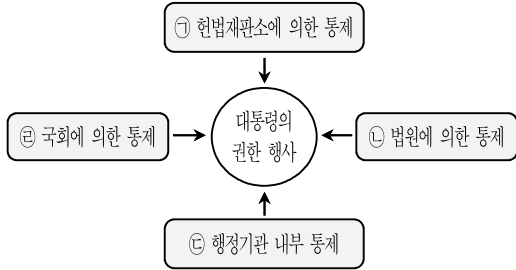
문 6. 다음 글의 ㉠과 관련된 내용으로 옳은 것은?

「민법」상 태아는 원칙적으로 (㉠)이/가 없지만 불법행위로 인한 손해배상의 청구, 상속 등과 같은 경우 태아의 (㉠)을/를 인정하고 있다.

- ① 미성년자는 (㉠)이/가 있다.
- ② 자연인만 (㉠)을/를 가질 수 있다.
- ③ 출생신고를 마쳐야만 (㉠)을/를 취득할 수 있다.
- ④ 제한능력자 제도는 (㉠)이/가 없는 사람을 보호하기 위한 제도이다.

문 7. 그림은 대통령의 권한 행사에 대한 통제수단을 나타낸 것이다.

㉠ ~ ㉢에 대한 설명으로 옳지 않은 것은?



- ① ㉠ - 대통령이 직무집행에 있어서 헌법이나 법률을 위반한 경우에 헌법재판소는 탄핵의 소추를 의결할 수 있다.
- ② ㉡ - 명령이 헌법이나 법률에 위반되는지 여부가 재판의 전제가 된 경우에는 대법원이 최종적으로 심사할 권한을 가진다.
- ③ ㉢ - 국무회의는 정부의 권한에 속하는 중요한 정책을 심의한다.
- ④ ㉡ - 국회는 국무총리의 해임을 대통령에게 건의할 수 있다.

문 8. 국제법의 법원(法源)에 대한 설명으로 옳지 않은 것은?

- ① 국제관습법과 법의 일반원칙은 조약과 달리 별도의 체결 절차 없이 일반적으로 국제 사회에서 법적 구속력이 발생한다.
- ② 법의 일반원칙은 문명국들이 공통으로 승인하여 따르는 법의 보편적인 원칙을 말하며, 신의성실의 원칙, 권리남용금지 원칙 등이 그 예이다.
- ③ 국제관습법은 국제 사회의 반복적인 관행이 법규범으로 승인되어 효력을 갖는 것으로서, 외교관의 특권과 면제, 전쟁 포로에 대한 인도적 대우 등이 그 예이다.
- ④ 조약은 2개 이상의 국가 사이에 맺은 법적 구속력을 갖는 문서 형식의 합의로서, 우리나라의 경우 대통령이 안전보장에 관한 조약을 체결할 경우 국회의 동의를 필요로 하지 않는다.

문 9. 다음 글에서 설명하는 개념에 대한 사례에 해당하지 않는 것은?

일반적인 불법행위와 달리, 우리 「민법」은 일정한 경우에 특수 불법행위의 유형을 정하여 손해배상책임을 지우고 있다.

- ① 개를 데리고 산책하다가 주의를 게을리한 사이 개가 행인을 물어 상처가 난 경우, 개의 점유자가 그 손해를 배상해 주었다.
- ② 칵테일 가게 종업원이 칵테일 제조 묘기를 하던 중 잘못 던진 컵에 손님이 부딪혀 부상을 입은 경우, 사용자가 그 손해를 배상해 주었다.
- ③ 타인의 승용차 운전 중 부주의로 인해 상품 진열대를 파손하여 운전자가 그 손해를 배상해 주었다.
- ④ 5세 자녀가 타인의 집 유리창을 부주의로 파손한 경우, 그 자녀의 부모가 손해를 배상해 주었다.

문 10. 밑줄 친 제도에 대한 설명으로 옳은 것은?

○○경찰서장은 긴급범죄신고 번호인 112에 허위 신고를 하여 근무 중인 경찰들을 긴급 출동케 한 갑(甲)에 대해 즉결심판을 청구하였다. 경찰은 긴급범죄신고 112에 대해 별다른 죄의식 없이 허위신고를 하는 사람들에게는 강력하게 대처해 112 긴급범죄신고가 국민의 비상벨 역할을 제대로 펼쳐 나갈 수 있도록 최선의 노력을 다할 계획이라고 밝혔다.

- ① 관할경찰서장 또는 관할해양경비안전서장이 검찰청에 청구한다.
- ② 20만 원 이하의 벌금이나 금고가 부과되는 가벼운 범죄사건에 활용된다.
- ③ 형의 집행은 경찰서장이 하고, 그 집행결과를 지체없이 판사에게 보고하여야 한다.
- ④ 피고인의 불출석 심판청구를 법원이 허가한 경우, 법원은 피고인이 출석하지 않더라도 심판할 수 있다.

문 11. 사회계약설에 대한 설명으로 옳지 않은 것은?

- ① 홉스(T. Hobbes)는 절대 군주제를 옹호하였다.
- ② 로크(J. Locke)는 국가가 개인들의 자유와 권리를 침해할 경우 국민들의 저항권을 인정하였다.
- ③ 로크(J. Locke)는 정치권력을 입법권, 집행권, 사법권으로 분립시키는 삼권분립론을 주장하였다.
- ④ 루소(J.J. Rousseau)는 국민들이 계약을 통해 국가를 만들었어도 국가에 자신들의 주권을 양도한 것은 아니라고 주장하였다.

문 12. 선거구 제도에 대한 설명으로 옳지 않은 것은?

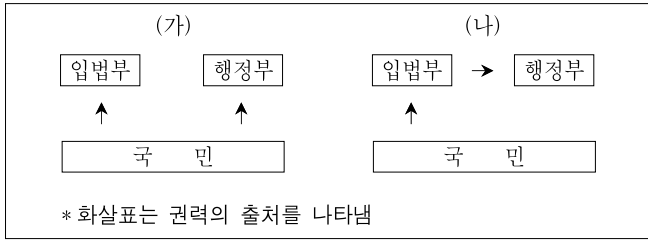
- ① 소선거구제는 대표 결정방식 중 다수 대표제와 결합하여 시행되는 것이 일반적이다.
- ② 우리나라는 국회의원 지역구 선거, 지방자치단체장 및 기초의회의원 선거에서 소선거구제를 적용하고 있다.
- ③ 소선거구제는 중·대선거구제에 비해 선거 비용이 적게 들고, 인기가 높은 후보나 주요 정당 후보에게 유리할 수 있다.
- ④ 소선거구제는 중·대선거구제에 비해 사표(死票)가 많이 발생할 수 있으며, 정당 득표율과 정당 의석률의 불일치가 심화될 수 있다.

문 13. (가), (나)에 대한 설명으로 옳지 않은 것은?

(가) '법에 의한 지배(rule by law)'는 법을 통치자의 의사를 실현하는 도구나 수단으로 사용하는 것을 정당화한다.  
 (나) '법의 지배(rule of law)'는 누구도 법과 동등한 권위를 지닐 수 없고, 통치자를 비롯한 모든 사람이 법에 종속된다는 것이다.

- ① (가)는 법치주의를 형식적인 의미로 이해하고 있다.
- ② (나)는 법의 내용과 목적을 중시하여 통치의 정당성을 강조한다.
- ③ (나)에 따르면 법치주의와 민주주의는 상호 보완적 관계이다.
- ④ 전체주의 국가는 (가)보다 (나)로 법치주의를 받아들이고 있다.

문 14. 그림은 전형적인 두 가지 정부 형태를 단순화하여 나타낸 것이다. 이에 대한 설명으로 옳은 것은?

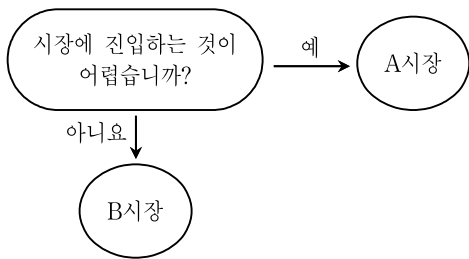


- ① (가)는 (나)에 비해 권력분립이 엄격하지 않다.
- ② (가)는 입법부가 행정부에 대해 불신임권을 행사한다.
- ③ (나)는 입법부와 행정부가 유기적 관계에 있다.
- ④ 우리나라의 정부 형태는 (나)에 해당한다.

문 15. 국제연합(UN)에 대한 설명으로 옳은 것은?

- ① 국제사회의 평화와 안전을 보장하기 위하여 집단안보(Collective Security)를 채택하고 있다.
- ② 안전보장이사회의 상임이사국과 일부 비상임이사국에게 거부권이 주어진다.
- ③ 안전보장이사회 산하에 유네스코와 인권이사회가 활동하고 있다.
- ④ 국제사법재판소는 서로 국적이 다른 9명의 재판관으로 구성된다.

문 16. 그림은 동질의 상품을 생산하는 기업의 진입 가능성 여부에 따라 시장을 구분한 것이다. A와 B시장에 대한 설명으로 옳은 것만을 <보기>에서 모두 고른 것은?



- <보 기>
- ㉠. 자원배분의 비효율성은 B시장보다 A시장이 높다.
  - ㉡. 기업의 시장지배력은 B시장보다 A시장이 낮다.
  - ㉢. 기업 간 담합 발생 가능성은 A시장보다 B시장이 높다.
  - ㉣. 시장 참여자가 가격수용자가 될 가능성은 A시장보다 B시장이 높다.

- ① ㉠, ㉡
- ② ㉠, ㉢
- ③ ㉡, ㉣
- ④ ㉢, ㉣

문 17. 경기변동에 따른 경제안정화 정책에 대한 설명으로 옳은 것은?

- ① 경기과열 시 지급준비율을 인상하여 총수요를 감소시킨다.
- ② 경기과열 시 세율을 인하하여 총수요를 감소시킨다.
- ③ 경기침체 시 국공채를 매각하여 총수요를 증가시킨다.
- ④ 경기침체 시 정부지출을 축소하여 총수요를 증가시킨다.

문 18. 다음은 국제 수지 중 서비스 수지와 이전 소득 수지에 대한 내역을 나타낸 것이다. ㉠~㉣ 중 올바르게 기록한 것을 모두 고른 것은?

구분	외화 수취	외화 지급
서비스 수지	㉠. 외국인으로부터 벌어들인 관광 수입 10억 달러	㉡. 외국기업 주식 매입금액 9천만 달러
이전 소득 수지	㉢. 국내 투자자가 외국기업 주식을 보유하고 받은 배당금 1억 달러	㉣. 정부가 해외 난민 보호를 위해 무상원조한 1억 달러

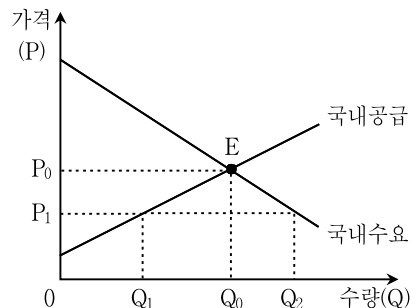
- ① ㉠, ㉡
- ② ㉠, ㉢
- ③ ㉡, ㉣
- ④ ㉢, ㉣

문 19. 다음은 A국, B국, C국의 고용에 관한 통계이다. 이에 대한 분석으로 옳은 것은?

구분	노동(생산)가능 인구(명)	경제활동 참가율(%)	실업률(%)
A국	10,000	75	6
B국	12,000	60	7
C국	9,000	80	8

- ① 비경제활동인구 수는 A국이 가장 많다.
- ② 경제활동인구 수는 B국이 가장 많다.
- ③ 취업자 수는 B국이 가장 많다.
- ④ 실업자 수는 C국이 가장 많다.

문 20. 그림은 A국의 X재에 대한 국내수요와 국내공급을 나타낸 것으로 자유무역을 실시하기 전 E점에서 균형을 이루고 있다. A국이 시장을 전면 개방할 경우, 국내의 X재 시장에 미치는 영향에 대한 설명으로 옳지 않은 것은? (단, X재의 국제 시장가격은 P<sub>1</sub>이고, A국은 이 가격을 주어진 것으로 받아들이며, 이 가격에서 X재를 얼마든지 수입할 수 있다)



- ① 시장균형 가격은 하락한다.
- ② 소비자 잉여는 증가한다.
- ③ 사회적 잉여는 감소한다.
- ④ 국내 생산자의 국내 판매수입은 감소한다.